



KANGOEROE

DE WERELDWIJDE REKEN-, DENK- EN PUZZELWEDSTRIJD

Aan alle Wombatjes en hun leerkrachten: veel succes en, nog belangrijker, veel plezier!



© Vlaamse Wiskunde Olympiade vzw

WOMBAT 2017



Vlaamse overheid





Juist antwoord
8 punten



Geen antwoord
2 punten




Fout antwoord
0 punten



Ongeveer
50 minuten



Leerkracht leest
de vragen voor



Hallo, ik ben Wombat. Mijn vriendjes en ik hebben een bundeltje vragen gevonden waar wij wel wat hulp bij kunnen gebruiken. Kunnen jullie ons helpen?



Deze vraag maak je samen met de juf of de meester.

1. Je ziet sterren met 5 punten en sterren met 7 punten. Hoeveel sterren hebben juist 5 punten?



- A** 2 **B** 4 **C** 6 **D** 8 **E** 10

WOMBAT 2017





Volgende vragen maak je alleen.


2. Welke poes vangt de vis?




A



B



C



D



E

3. Deze kinderen zijn vandaag jarig. Wie is het oudste?




A



B



C



D








E

WOMBAT 2017











4. Juf Katrijn snoept gezond: ze eet alleen appels, peren en wortelen.
In welk bord liggen de meeste peren?




5. Louise wil de vlinder versieren met deze 6 stickers:




Welke vlinder kan ze maken?



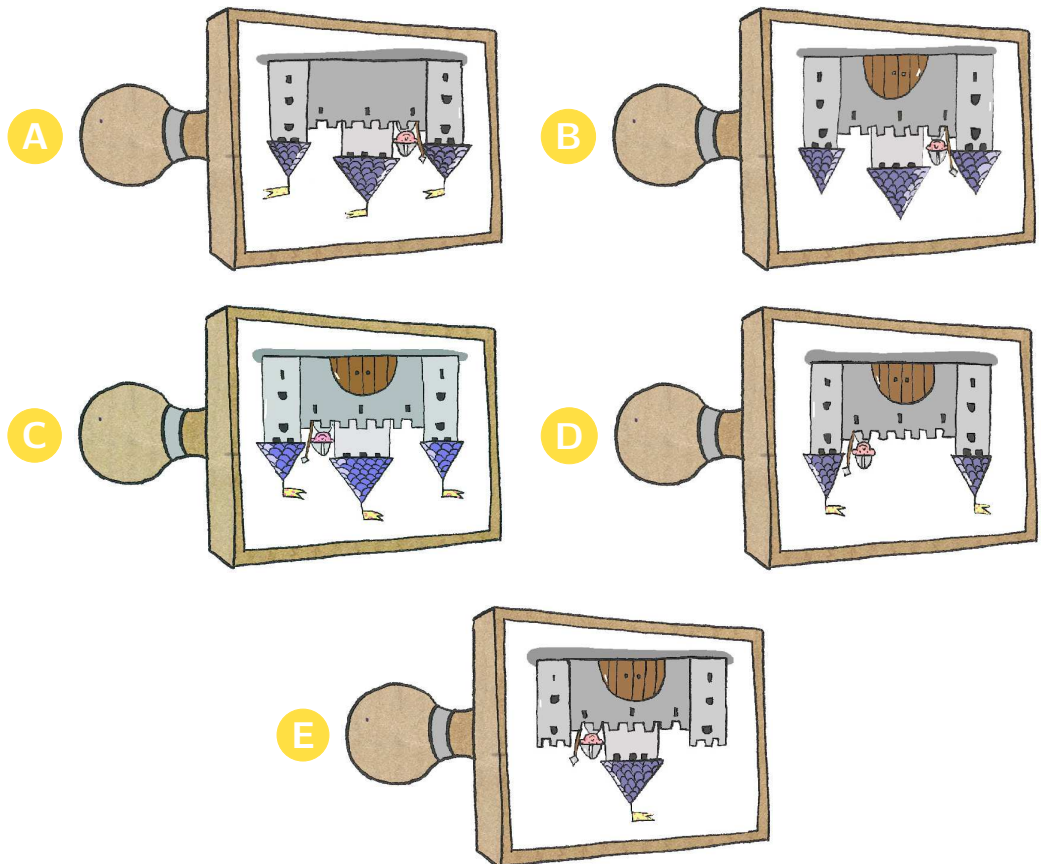



6. Hoeveel stenen 
van de iglo zijn er
weg?



- A** 6 **B** 7 **C** 8 **D** 9 **E** 10


7. Met welke stempel kan je deze
tekening maken?




WOUBAT 2017




8. Nirap, de schildpad, staat om 5 uur op.
Ze heeft 3 uur tijd nodig om van haar bed
naar de keuken te kruipen.
Hoe laat zal Nirap ontbijten?




A




B



C




D



E

9. Papa verdeelt de taart onder de kinderen.
Ieder kind krijgt een stuk taart met
3 kersen.
Hoeveel kinderen zijn er?



A 3


B 4

C 5

D 6

E 7

10. Emma knipt volgens
de stippellijn.
Hoeveel stukken touw
heeft ze daarna?



A 3

B 4

C 5

D 6

E 7

11. Marie heeft een halsketting met 4 kralen.
Welke halsketting is dezelfde als die van Marie?



A



B



C



D

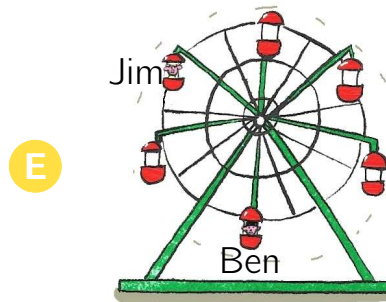
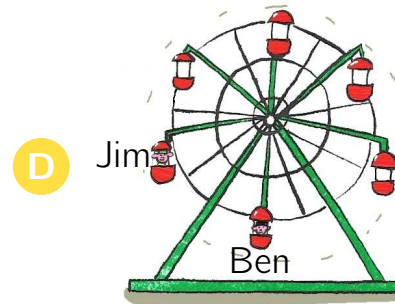
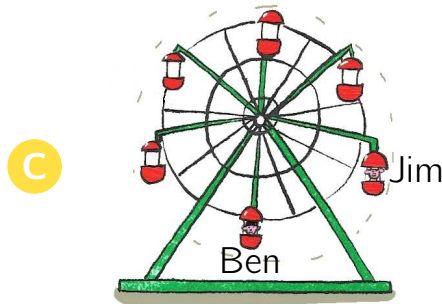

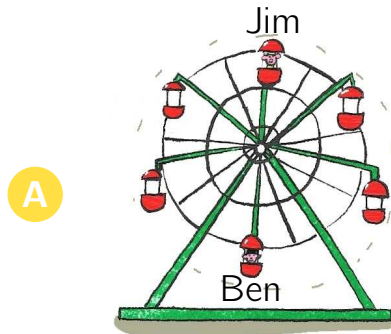
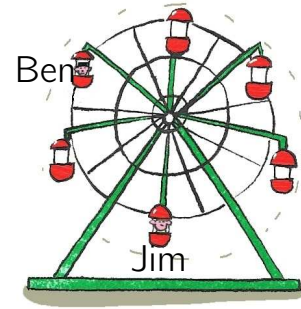


E

WOMBAT 2017



12. Jim stapt in het reuzenrad als Ben al hoog in de lucht zit.
 Waar zal Jim zijn op het moment dat Ben kan uitstappen?



13. Victor lost alle sommen juist op.
 Hij plakt enkele stickers op zijn oefening.
 Welk getal staat onder de sticker met het vraagteken?

	2	6
3	5	9
	?	10

A 6

B 7

C 8

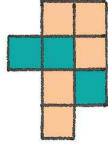
D 9

E 10

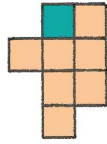
WOMBAT 2017




14. Youssef heeft twee puzzelstukken.
Welke vorm kan hij maken?




A



B



C




D




E

15. Eva zet 6 stukken
speelgoed in de kast.



staat juist onder



en rechts van



staat juist boven



en links van



Welk stuk speelgoed komt rechts bovenaan in de kast?




A



B



C



D



E